









№ вопроса	Задание	Оценка
1.	<p>Процесс разрушения почвенного покрова и сноса частиц земли потоками воды и ветром, это:</p> <p>вулканическая деятельность эрозия почвы селевой поток зарождение циклонов</p>	2 балла
2.	<p>Как называется дорожный знак?</p>  <p>конец велосипедной дорожки движение велосипедного транспорта запрещено пересечение с велосипедной дорожкой осторожно, велосипедисты</p>	2 балла
3.	<p>Что такое пожар?</p> <p>химическая реакция окисления, сопровождающаяся свечением и выделением большого количества тепла</p> <p>неконтролируемое стихийно развивающееся горение, причиняющее материальный ущерб, вред жизни и здоровью граждан, интересам общества и государства</p> <p>частный случай горения, протекающий мгновенно, с кратковременным выделением значительного количества тепла и света</p> <p>возгорание легковоспламеняющихся материалов</p>	2 балла
4.	<p>Укажите самое безопасное место во время урагана, если вы находитесь внутри здания:</p> <p>чердак подвал верхние этажи зданий нижние этажи зданий</p>	2 балла
5.	<p>Основным способом спасения людей при извержении вулканов является:</p> <p>укрытие в специально оборудованных убежищах</p>	2 балла

	<p>эвакуация</p> <p>использование средств индивидуальной защиты органов дыхания и кожи</p> <p>доставка гуманитарной помощи в район извержения вулкана</p>	
6.	<p>Что обозначает знак безопасности?</p> <div data-bbox="316 443 734 860" data-label="Image"> </div> <p>место сбора</p> <p>место размещения нескольких средств противопожарной защиты</p> <p>кнопка включения установок (систем) пожарной автоматики</p> <p>звуковой оповещатель пожарной тревоги</p>	2 балла
7.	<p>Какой прибор используется для измерения скорости ветра?</p> <p>гигрометр анемометр термометр барометр сейсмограф</p>	2 балла
8.	<p>Запишите слово, пропущенное в одном из положений Конституции Российской Федерации.</p> <p>Наименования Российская Федерация и _____ равнозначны.</p> <p>Россия</p>	3 балла
9.	<p>Какое соотношение надавливаний руками на грудину пострадавшего и вдохов при выполнении сердечно-лёгочной реанимации</p> <p>30 надавливаний и 3 вдоха 30 надавливаний и 2 вдоха 15 надавливаний и 3 вдоха 15 надавливаний и 2 вдоха</p>	2 балла

10.	<p>Самым безопасным местом в доме для хранения ценных вещей является:</p> <p>банки с крупой на кухне сейф стопки книг в шкафу стопки белья в шкафу</p>	2 балла
11.	<p>При какой травме выполняется иммобилизация, изображённая на рисунке?</p>  <p>перелом костей таза перелом позвоночника перелом бедра перелом голени</p>	2 балла
12.	<p>Продолжите фразу. В случае возникновения чрезвычайной ситуации на железнодорожном транспорте при покидании вагона необходимо _____</p> <p>выбираться только в сторону последнего вагона, взяв с собой документы, деньги, одежду или одеяла</p> <p>выбираться только на полевую сторону железнодорожного пути, взяв с собой документы, деньги, одежду или одеяла</p> <p>выбираться только в сторону головного вагона, взяв с собой документы, деньги, одежду или одеяла</p>	2 балла
13.	<p>День солидарности в борьбе с терроризмом в Российской Федерации установлен 3 сентября. С каким трагическим событием эта дата связана?</p> <p>взрывы жилых домов в городах Буйнакс, Москва, Волгодонск в 1999 году</p> <p>захват заложников в школе №1 города Беслана Республики Северная Осетия в 2004 году</p> <p>захват заложников в Театрально центре города Москва во время представления «Норд-Ост» в 2002 году</p> <p>захват заложников в больнице города Буденновск Ставропольского края в 1995 году</p>	2 балла
14.	<p>Во время путешествия по реке на корабле произошёл пожар, Вы прыгнули за борт. Что Вы будете делать в дальнейшем?</p> <p>плавать в том же месте, куда прыгнули плыть вслед за кораблём</p>	2 балла





	<p>постараться быстрее отплыть от корабля ждать возле корабля, когда спустят шлюпку</p>	
15.	<p>Какое из насекомых не является переносчиком опасных инфекций?</p> <p>1.</p>  <p>2.</p>  <p>3.</p>  <p>4.</p> 	3 балла

16.	<p>Вставьте в текст верное время.</p> <p>Травмы носа очень часто сопровождаются наружным кровотечением. Если пострадавший находится в сознании, необходимо усадить его со слегка наклоненной вперед головой и зажать ему нос в районе крыльев носа на _____. При этом можно положить холод на переносицу. Если спустя указанное время кровотечение не остановилось, следует вызвать скорую медицинскую помощь, до приезда которой надо продолжать выполнять те же мероприятия.</p> <p>50-60 минут 30-40 минут 15–20 минут 5- 7 минут</p>	2 балла
17.	<p>Как назывался космический корабль, на котором в 1961 году лётчик-космонавт СССР Юрий Алексеевич Гагарин совершил первый в мире пилотируемый полёт в космическое пространство?</p> <p>«Запад» «Восход» «Восток» «Союз»</p>	2 балла
18.	<p>Запишите название изображённого костра.</p>  <p>нодья</p>	3 балла
19.	<p>Какой узел изображён на рисунке?</p>  <p>узел булинь прямой узел простой штык проводник восьмёрка</p>	2 балла

20.	<p>Установите соответствие между типами голодания и их описанием.</p> <div style="display: flex; justify-content: space-between; align-items: flex-start;"> <div style="width: 45%;"> <div style="border: 1px solid black; padding: 5px; margin-bottom: 10px; text-align: center;">абсолютное</div> <div style="border: 1px solid black; padding: 5px; margin-bottom: 10px; text-align: center;">полное</div> <div style="border: 1px solid black; padding: 5px; margin-bottom: 10px; text-align: center;">неполное</div> <div style="border: 1px solid black; padding: 5px; text-align: center;">частичное</div> </div> <div style="width: 50%;"> <div style="border: 1px solid black; padding: 5px; margin-bottom: 10px;">человек не принимает пищу, только пьет воду</div> <div style="border: 1px solid black; padding: 5px; margin-bottom: 10px;">человек принимает пищу в достаточном количестве, не обеспечивающей поступление в организм одного или нескольких веществ, например, определенного витамина, белков, жиров или углеводов</div> <div style="border: 1px solid black; padding: 5px; margin-bottom: 10px;">человек не принимает пищу и не пьет воду</div> <div style="border: 1px solid black; padding: 5px;">человек принимает пищу в небольших количествах, которая не способствует восстановлению энергозатрат</div> </div> </div>	8 баллов, за каждое верное соотношение по 2 балла
21.	<p>Обзорный осмотр пострадавшего осуществляется, прежде всего, для:</p> <p>определения обстоятельств получения пострадавшим травмы</p> <p>определения наличия признаков жизни у пострадавшего</p> <p>определения проходимости дыхательных путей при их закупорке инородным телом</p> <p>определения наличия и расположения ранений с интенсивным наружным кровотечением, требующим немедленной остановки</p>	2 балла
22.	<p>Верховным главнокомандующим Вооружёнными силами Российской Федерации является:</p> <p>Председатель Правительства Российской Федерации</p> <p>Министр обороны Российской Федерации</p> <p>Президент Российской Федерации</p> <p>Премьер-министр Российской Федерации</p>	2 балла

23.	<p>Какая надпись должна быть на ленте эмблемы?</p>  <p>Федеральная служба безопасности Национальный антитеррористический комитет Совет национальной безопасности Федеральная служба войск национальной гвардии</p>	2 балла
24.	<p>Представляет собой разновидность морских волн, возникающих при подводных и прибрежных землетрясениях. Необычно высокие волны прибоя неожиданно появляются на побережье при опускании, поднятии или изменении дна океана. Такие нарушения поверхности дна происходят одновременно на большой территории в результате тектонических движений почвы, извержений подводных вулканов, обвалов больших участков суши в океан, подводных сдвигов и оползней. Запишите что это?</p> <p>цунами</p>	2 балла
25.	<p>Как называется массовое распространение инфекционного заболевания растений называется?</p> <p>эпидемия эпифитотия эпизоотия эпигенез</p>	2 балла
26.	<p>Опасным гидрологическим явление является:</p> <p>курум карст торнадо сель</p>	2 балла
27.	<p>Выберите правильный способ прекращения воздействия электрического тока на пострадавшего -</p> <p>отбросить от пострадавшего электропровод одной рукой обмотать руку тряпкой и быстро отбросить электропровод отбросить электропровод сухой палкой</p>	2 балла

	отбросить электропровод металлической трубой	
28.	<p>Окклюзионная повязка применяется при ранении:</p> <p>головы груди конечностей таза живота</p>	2 балла
29.	<p>Повторный сейсмический толчок, который происходит после основного толчка при землетрясении, меньшей интенсивности по сравнению с главным сейсмическим ударом называется:</p> <p>айсбаль афтершок карст лахор</p>	3 балла

30.	<p data-bbox="316 152 1165 228">Из какого растения в условиях автономного существования в природных условиях можно изготовить верёвку?</p> <div data-bbox="347 264 927 622"> <p data-bbox="316 600 339 633">1.</p>  </div> <div data-bbox="339 667 924 1037"> <p data-bbox="316 1014 339 1048">2.</p>  </div> <div data-bbox="347 1081 911 1503"> <p data-bbox="316 1480 339 1514">3.</p>  </div> <div data-bbox="347 1547 911 1962"> <p data-bbox="316 1939 339 1973">4.</p>  </div>	2 балла
-----	--	---------

31.	<p>Как называется ветер разрушительной силы и значительной продолжительности, который возникает внезапно в областях с резким перепадом атмосферного давления, скоростью 33 метра в секунду и выше?</p> <p>жестокий шторм ураган сильный шторм торнадо</p>	2 балла
Определите два правильных ответа		
32.	<p>Что не относится к подручным средствам пожаротушения?</p> <p>переносной огнетушитель покрывало для изоляции очага возгорания (кошма) плотное несинтетическое полотенце металлический лом земля пожарный инвентарь</p>	<p>2 балла</p> <p>За каждый правильный ответ начисляется 1 балл, если ответов более 2х– 0 баллов</p>
33.	<p>Сопутствующими проявлениями опасных факторов пожара являются:</p> <p>тепловой поток снижение видимости в дыму воздействие огнетушащих веществ повышенная температура окружающей среды опасные факторы взрыва, произошедшего вследствие пожара</p>	<p>4 балла</p> <p>За каждый правильный ответ начисляется 2 балла, если ответов более 2х– 0 баллов</p>
34.	<p>В ориентировании на местности карта не поможет в следующих случаях:</p> <p>в населенном пункте у перекрёстка дорог в глухом лесу у моста на берегу реки в пустыне</p>	<p>4 балла</p> <p>За каждый правильный ответ начисляется 2 балла, если ответов более 2х– 0 баллов</p>
Определите три правильных ответа		
35.	<p>Огнетушители ОВП не должны применяться для тушения:</p> <p>пожаров оборудования, находящегося под электрическим напряжением</p> <p>твёрдых горючих веществ</p> <p>сильно нагретых или расплавленных веществ</p> <p>горючих жидкостей</p> <p>веществ, вступающих с водой в химическую реакцию, которая сопровождается интенсивным выделением тепла и разбрызгиванием горючего</p>	<p>6 баллов</p> <p>За каждый правильный ответ начисляется 2 балла, если ответов более 3х– 0 баллов</p>

36.	<p>При вызове скорой медицинской помощи необходимо обязательно сообщить диспетчеру следующую информацию:</p> <p>место происшествия, что произошло время совершения происшествия число пострадавших и что с ними какая оказывается помощь кто сообщил информацию о происшествии телефон обратной связи</p>	<p>6 баллов за каждый правильный ответ начисляется 2 балла, если ответов более 3х— 0 баллов</p>
37.	<p>Какие из пищевых веществ относятся к макронутриентам?</p> <p>минералы витамины углеводы белки микроэлементы жиры</p>	<p>6 баллов за каждый правильный ответ начисляется 2 балла, если ответов более 3х— 0 баллов</p>